


受検 番号	
----------	--

氏 名	
-----	--

点数	<div style="text-align: right;">/ 100</div>
----	---

第12回 ジュニアかなざわ検定 中学生版

問題・解答用紙



平成29年8月23日

ジュニアかなざわ検定実行委員会

問題1 金沢市は石川県で最も人口が多い市である。2017年(平成29)4月現在で、金沢市の人口はおよそ何人か。

- ① 35万人 ② 46万人
③ 52万人 ④ 63万人

答え

問題2 歴史遺産や伝統文化が残る金沢は観光都市であり多くの観光客が訪れる。外国語による観光案内や、兼六園・金沢城などを専門に案内する観光ボランティアを何というか。

- ① まいどさん ② もてなしさん
③ あんやとさん ④ いいね金沢さん

答え

問題3 「ふらっとバス」は、金沢市内の交通が不便な地域の住宅地と、交通が便利な所や商店街などを結んでいる。現在4つのルートがあるが、此花・菊川・材木とあと1つのルートは何か。

- ① 寺町
② 長町
③ 堤町
④ 片町



答え

問題4 鎌倉時代のはじめには、金沢の高尾町・泉野町付近から三馬・久安付近を支配し、のちに加賀国の守護となり、歌舞伎「勧進帳」では安宅の関で源義経と弁慶を通したと伝えられている一族はどれか。

- ① 林氏 ② 前田氏
③ 久安氏 ④ 富樫氏

答え

問題5 俵屋宗達や五十嵐道甫など有名な画家や職人を金沢に招き、江戸や京都と肩を並べるほど美術工芸を盛んにした加賀藩主は誰か。

- ① 前田利家 ② 前田利長
③ 前田利常 ④ 前田慶寧

答え

問題6 第2次世界大戦が終わった直後の1946年(昭和21)に伝統文化を守り、発展させるための専門的な学校が金沢市によってつくられた。この学校の現在の名前は何か。

- ① 金沢美術工芸大学
- ② 石川県立大学
- ③ 金沢大学
- ④ 北陸先端科学技術大学院大学

答え

問題7 兼六園は、加賀藩5代藩主前田綱紀の別荘の茶室や庭が始まりであるが、1度につくられたものではない。12代藩主斉広が兼六園内に曲水をつくったとき、水を引いた用水の名前は何か。

- ① 長坂用水
- ② 大野庄用水
- ③ 辰巳用水
- ④ 金洗沢



答え

問題8 地域振興や観光振興の観点から地域名表示を弾力化した「ご当地ナンバー」として2006年(平成18)から「金沢」も表示できるようになった。この「ご当地ナンバー」をつけるものは何か。

- ① 新幹線
- ② 自動車
- ③ ふるさと納税の商品
- ④ Wi-Fiスポット

答え

問題9 金沢市の北部には、石川県で最も大きな潟があったが、現在はその3分の2が干拓され、農地となっている。その潟とは、次のうちのどれか。

- ① 河北潟
- ② 邑知潟
- ③ 木場潟
- ④ 柴山潟

答え

問題10 1656年(明暦^{めい れき}2)と1670年(寛文^{かん ぶん}10)の2度、加賀藩^{か が はん}が領内^{りょう ない}の村々に出した書面^{しゅう かく だか}で、村の収穫高とそれに見合う年貢^{ねん ぐ}の割当^{わり あて}が書かれたものを何というか。

- ① 村御印^{むら ご いん} ② 二日読^{ふつ か よみ}
③ 夫銀^{ぶ ぎん} ④ 小物成^{こ もの なり}

答え

問題11 歴史都市である金沢では、統廃合^{とう はい がつ}により一度消えた町名を復活させる取り組みをしている。主計町^{かず え まち}・下石引町^{しも いし びき まち}・飛梅町^{とび うめ ちょう}など現在までに11の町名が復活しているが、復活した町名の組み合わせとして正しいのはどれか。

- ① 二十人町^{に じゅう にん まち}・醒ヶ井町^{さめ が い ちょう}・象眼町^{ぞう がね まち}
② 吹屋町^{ふき や まち}・石屋小路^{いし や しょう じ}・玄蕃町^{げん ば まち}
③ 又五郎町^{また ご ろう まち}・鍛冶町^{か じ まち}・主馬町^{しゅ め まち}
④ 柿木畠^{かき のき ばたけ}・六枚町^{ろく まい まち}・南町^{みなみちょう}



答え

問題12 市民がいつでも生涯学習^{しょう がい がく しゅう}の情報^ふに触れられるように、金沢市が定期的に発行しているイベントや講座^{こう ざ}を紹介する冊子^{しょう かい さつ し}を何というか。

- ① いいね金沢
② みまっ誌^し
③ かけはし
④ たいあっぷ

答え

問題13 江戸時代^{え ど}の金沢では舟運^{しゅう うん}がさかんで、川を利用して各地の産物が金沢城下や川沿いの村々へと運ばれた。それらのうち加賀藩^{か が はん}の年貢米^{ねん ぐ まい}を金沢城下の御蔵^{お くら}に運ぶのに利用されていた川はどれか。

- ① 森下川^{もり ちと がわ}
② 犀川^{さい がわ}
③ 浅野川^{あさ の がわ}
④ 大野川^{おお の がわ}

答え

問題14 金沢が生んだ文豪で、「幼年時代」「性に眼覚める頃」などの小説や「犀川」という詩などを発表した人物は誰か。

- ① 徳田秋声
- ② 泉鏡花
- ③ 夏目漱石
- ④ 室生犀星

答え

問題15 1858年(安政5)におこった「安政の泣き一揆」の首謀者として処刑された人たちの霊を慰めるために、東山の寿経寺につくられたのは何か。

- ① 七泣き地蔵
- ② 卯辰地蔵
- ③ 七稲地蔵
- ④ 七米地蔵

答え

問題16 金沢市は、2009年(平成21)6月に、国連のユネスコから、独自の文化を産業と結びつけ、新しい価値を生み出している「創造都市」として認定された。このとき、金沢市が「創造都市」として認定されたのはどの分野か。

- ① ガーデン(庭園)
- ② ピクチャー(絵画)
- ③ クラフト(工芸)
- ④ ミュージック(音楽)

答え

問題17 江戸時代、金沢町人の財産争いを防ぐために、町の人々が義務付けられていた相続の方法は次のうちのどれか。

- ① 長子相続
- ② 遺言状による相続
- ③ 十人組による相続
- ④ 町年寄りによる相続

答え

問題18 金沢仏壇の製造には、御細工所（加賀藩の工芸製作工場）の木地師、塗師、蒔絵師、彫刻師、金具師が完全分業体制であっていた。金沢仏壇の特色として正しいものは、次のうちのどれか。



- ① 織細で変色しやすい。
- ② 組み立てに釘がたくさん使われている。
- ③ 加賀蒔絵や金箔が使われている。
- ④ 加賀友禅がふんだんに使われている。

答え

問題19 1915年（大正4）から1951年（昭和26）まで、金石の地で、くりひろげられた高校のスポーツ大会は、次のうちのどれか。

- ① 野球
- ② 水泳
- ③ マラソン
- ④ 角力

答え

問題20 金沢市立図書館は現在4館ある。研究者などにも利用される古文書などを集めて保存する近世史料館が付属している図書館はどれか。

- ① 玉川こども図書館
- ② 玉川図書館
- ③ 泉野図書館
- ④ 金沢海みらい図書館

答え

問題21 加賀藩では村々を数十か村集めた「組」が作られていた。この「組」を支配した、身分は百姓であるが、武士からの命令を村々に伝えたりするなどの仕事を行った役人を何というか。

- ① 肝煎
- ② 百姓代
- ③ 十村
- ④ 組合頭

答え

問題22 2016年(平成28)3月末に金沢市の観光調査報告書が公表され、2015年(平成27)1年間の観光施設の入場者数が明らかになった。入場者数の上位は、第2位が金沢城、第3位が21世紀美術館、第4位が県立美術館であったが、第1位はどこか。

- ① 兼六園 ② からくり記念館
③ 県立歴史博物館 ④ 妙立寺(忍者寺)

答え

問題23 兼六園の中にあり、加賀藩13代藩主前田斉泰が母の住まいとして建てた建物は何か。

- ① 竹沢御殿
② 蝶螺山
③ 成巽閣
④ 時雨亭



答え

問題24 加賀藩では、1792年(寛政4)に、現在の兼六園内に藩校を建てた。このうち、士農工商の身分を問わず、8歳以上の男子が入校でき、儒学を中心に漢字・算術・医学・天文学などを学ぶことができた藩校を何というか。

- ① 経武館
② 弘道館
③ 鳴滝塾
④ 明倫堂

答え

問題25 明治時代はじめ、明治維新に取り残された士族たちによってつくられた政治結社で、金沢に初めてつくられた政治結社を何というか。

- ① 立志社
② 愛国社
③ 忠告社
④ 自助社

答え

問題26 藩政時代の金沢につくられた「ひろみ」は、現在、地域の祭りや盆踊り、フリーマーケットなど、地域の人々のふれあいの場として活用されている。「ひろみ」のもともとの利用目的は何か。

- ① ぼう はん 防犯
- ② ぼう か 防火
- ③ じょ せつ 除雪
- ④ すい ぼう 水防



答え

問題27 金沢では1963年(昭和38)に三八豪雪と呼ばれる記録的な豪雪となった。連日20cmをこえる雪が2週間以上降り続き、人々は2階の窓から家に出入りした。この豪雪時の、金沢の最大積雪量は約何cmか。

- ① 80cm
- ② 180cm
- ③ 280cm
- ④ 380cm

答え

問題28 馬車鉄道しかなかった金沢にはじめて電車が走ったのは、1914年(大正3)である。今はもう走っていないが、その路線と営業していた鉄道会社はどれか。

- ① つるぎ の の いち いし かわ でん てつ 鶴来～野々市(石川電鉄)
- ② む さし が つじ こう りん ぼう こう りん ぼう でん てつ 武蔵ヶ辻～香林坊(香林坊電鉄)
- ③ うち なだ あさ の がわ でん てつ 金沢～内灘(浅野川電鉄)
- ④ かな いわ なが た かな いわ でん てつ 金石～長田(金石電鉄)

答え



問題29 ^{にい がた けん} 新潟県から^へ 富山県、^{し が けん} 石川県、^{いた} 福井県を経て、滋賀県に至る高速道路を北陸自動車道という。現在、金沢市に北陸自動車道のIC(インターチェンジ)は何か所あるか。

- ① 1か所
- ② 3か所
- ③ 6か所
- ④ 8か所



答え

問題30 ^{きた づか い せき じょう もん} 北塚遺跡は縄文時代中期の遺跡である。この遺跡から日本で初めて^{しゅつ ど} 出土したものは何か。

- ① ^{もく ちゅう こん} クリの木柱根
- ② ^{もん よう い おび かな ぐ} 文様入り帯金具
- ③ ^{わ どう かい ちん ぎん せん} 和同開珎銀銭
- ④ ^{ゆび わ} 石でつくられた指輪

答え

問題31 現在、金沢市は、世界の7都市と姉妹都市提携をし、多くの交流事業を行っている。これら7つの姉妹都市を紹介するコーナーを持つ、^{えき にし しん まち} 駅西新町にある公園を何というか。

- ① 金沢国際交流公園
- ② 七都市公園
- ③ 姉妹都市公園
- ④ 駅西新町公園

答え

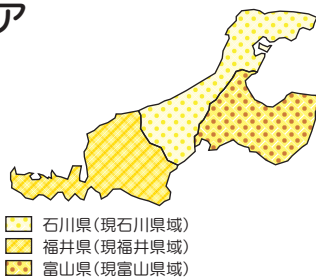
問題32 1488年(長享2)、鳥越弘願寺・吉藤専光寺・木越光徳寺を指導者と
した一向宗農民門徒の一揆軍が、高尾城を攻撃して守護の富樫政親
を倒した。この一揆を何というか。

- ① 嘉吉の乱
- ② 鳥越の一揆
- ③ 長享の一揆
- ④ 高尾の一揆

答え

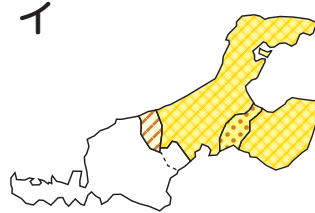
問題33 1871年(明治4)に廃藩置県が実施された。その後の県境の移り変
わりを表したア～ウの地図を年代順に正しく並びかえたものはど
れか。

ア



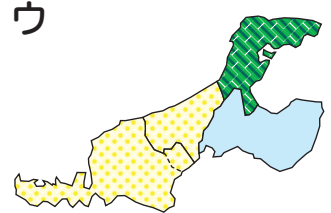
- 石川県(現石川領域)
- 福井県(現福井領域)
- 富山県(現富山領域)

イ



- 金沢県(能登4郡大部分・石川郡・能美郡
大部分・河北郡・砺波郡・射水郡・
新川郡大部分)
- 大聖寺県(江沼郡・能美郡一部)
- 富山県(婦負郡・新川郡一部)
- ※白山麓18力村は本保県
- ※能登の天領は高山県

ウ



- 石川県(石川郡・河北郡・能美郡大部分)
- 七尾県(能登4郡・射水郡)
- 新川県(砺波郡・新川郡・婦負郡)
- ※白山麓18力村は足羽県

- ① ア→イ→ウ
- ② イ→ウ→ア
- ③ ウ→イ→ア
- ④ ア→ウ→イ

答え

問題34 金沢では現在も能が盛んである。加賀藩5代藩主前田綱紀が取り入
れたことから金沢で盛んになった能の流派は何か。

- ① 金春流
- ② 和泉流
- ③ 観世流
- ④ 宝生流

答え



問題35 とよ とみ ひで よし つい ほう か が はん はん しゅ まえ だ
豊臣秀吉に追放されたキリシタン大名であり、加賀藩2代藩主前田
とし なが むか しろ すぐ だれ
利長によって金沢に迎えられ、城づくりにも優れていた人物は誰か。

- ① おお つき とも もと でん ぞう
大槻朝元(伝蔵)
- ② てら しま くら んど
寺島蔵人
- ③ さ く ま もり まさ
佐久間盛政
- ④ たか やま う こん
高山右近

答え

問題36 1872年(明治5)金沢県から石川県に名称が変わったとき、県庁が
めい しょう
一時、金沢から移された場所はどこか。

- ① こ まつ ② み かわ
小松 美川
- ③ つ ばた ④ なな お
津幡 七尾

答え

問題37 1930年(昭和5)、金沢の上水道の整備が始まり、翌1931年(昭和
さい がわ
6)から給水が行われた。犀川を水源とする金沢で初めてつくられ、
じょう すい じょう
現在も使われている浄水場はどこか。

- ① さい がわ
犀川浄水場
- ② すえ
末浄水場
- ③ うち かわ
内川浄水場
- ④ ふし み がわ
伏見川浄水場



答え

問題38 金沢は藩政時代から今日まで、様々な分野で活躍する多くの人々を
はぐく う さん とう かつ やく
育んできた。烏山頭ダムを完成させるなど、台湾で活躍し、不毛の大
たい わん
地を豊かな平野に変えたのは次のうち誰か。

- ① はつ た よ いち
八田與一
- ② き むら ひさし
木村栄
- ③ たか みね じょう きち
高峰譲吉
- ④ すず き だい せつ
鈴木大拙

答え


問題39 ^{か が はん}加賀藩^{はん しゅ まえ}2代藩主^{だ とし なが}前田利長、^{とし つね}3代藩主^{ぼう び}利常が金沢城防備のためにつくらせた、東西に分かれ二重にめぐらされた堀を何というか。

- ① ^{おお て ぼり}大手堀
- ② ^{そう がまえ ぼり}惣構堀
- ③ ^{ひやつ けん ぼり}百間堀
- ④ ^{はく ちょう ぼり}白鳥堀

答え

問題40 2014年(平成26)、金沢市は「めざすべき金沢の子ども像」を策定した。それを、市内の中学生が分かりやすく、覚えやすい言葉で表現した、子供たちの考え方や行動の基本的な約束事は何か。

- ① ^{さん かく}男女共同参画都市宣言
- ② ^{けん しょう}金沢市民憲章
- ③ かなざわ子育て夢プラン
- ④ 金沢子どもかがやき宣言



答え

問題41 金沢では7月のはじめに氷室饅頭や竹輪を食べ無病息災を願う風習があるが、江戸時代に行われていた「氷室の朔日」とはどのような行事か。

- ① 年の初めに加賀藩主にお祝いの踊りを献上した。
- ② お正月に加賀藩の伝統の梯子登りを将軍に披露した。
- ③ 夏に加賀藩から江戸の将軍に氷を献上した。
- ④ 冬に金沢の銘菓を将軍に献上した。

答え


問題42 金沢市は、西から東へとだんだん標高が上がり、険しい地形となっている。犀川の水源にもなっている、金沢市で最も高い山はどれか。

- ① ^{みつ こう じやま}三子牛山
- ② ^{い おう ぜん}医王山
- ③ ^{な ら だけ}奈良岳
- ④ ^{やま}キゴ山

答え

問題43 前田家の梅鉢紋^{うめ ばち もん}をシンボル化した「現代版梅鉢紋」に箸^{はし}を添えることで、金沢の食文化のすべてを表現した下のシンボルマークのスローガンはどれか。

- ① 五感にごちそうかなざわ
- ② 五感にしあわせかなざわ
- ③ 五感によろこびかなざわ
- ④ 五感にうれしいかなざわ



答え

問題44 毎年春の大型連休中に、石川県立音楽堂を中心として開催^{かい さい}されていた大規模な音楽イベントである「ラ・フォル・ジュルネ」は、今年から独自のプログラムに基づく音楽祭^{いつ しん}に一新された。新しい音楽祭の名前は開催時期^{ころ}の5月頃をイメージしているが、何という名前か。

- ① いしかわ・金沢 風と緑^{がく と}の楽都音楽祭
- ② いしかわミュージックアカデミー
- ③ 百万石音楽祭～ミリオンロックフェスティバル～
- ④ プロムナード金沢音楽祭

答え

問題45 江戸時代の初め、後藤太兵衛^{ごとう たへえ}が寺町台地^{かい こん}を開墾し水田を作るため、犀川^{さい がわ}の支流の内川から水を引き、1671年(寛文11)に完成させた用水は何か。

- ① 辰巳^{たつ み}用水
- ② 鞍月^{くら つぎ}用水
- ③ 大野庄^{おお の しょう}用水
- ④ 長坂^{なが さか}用水

答え

問題46 今年の百万石まつりでは、歴代加賀藩主がたしなんだ()狩りが初めて披露された。また、近年金沢駅で問題となっていたハトのふん害は、()のパトロールによりゼロになった。()の勇壮な姿は金沢駅の雰囲気^{ふん い き}に合っていると市民や観光客から人気を博した。()には何が入るか。

- ① ワシ
- ② タカ
- ③ トビ
- ④ ハヤブサ

答え

問題47 明治時代、国は今の大学にあたる高等中学校を5校つくった。そのうちの1校が金沢につくられ、のちの金沢大学になった。この学校がつくられた当時の学校名は何か。

- ① 第一高等中学校
- ② 第二高等中学校
- ③ 第三高等中学校
- ④ 第四高等中学校



答え

問題48 金沢城の石垣は当時最高の技術を持っていた穴太衆が担当して積んだが、金沢城の石垣にする石を切り出したことで有名な山はどれか。

- ① 白山
- ② 卯辰山
- ③ 戸室山
- ④ 野田山

答え

問題49 ^{か が はん}加賀藩の武士でも、身分の低い武士は暮らしが楽ではなかったの
で、^{ない しよく}内職などをした。主に行っていた内職は次のうちどれか。

- ① ^{きん ぱく}金箔をつくった。
- ② ^{すこ ろく}双六をつくった。
- ③ アクセサリーをつくった。
- ④ ^{ぼん きり こ とう ろう}お盆用の切子灯籠をつくった。

答え

問題50 今年の4月、金沢市^{いそ べ まち}磯部町にオープンしたプールは、県内初の屋内
50mプール、飛び込みプール、25mサブプールを^{そな}え、2020年東京
オリンピックでは水泳のフランス代表チームが事前合宿を行うこと
が決まっている。この北陸最大規模の屋内プールは何という名前か。

- ① ^{けん みん かい ひん}健民海浜プール
- ② ^{じょう ぼく}城北市民運動公園屋内総合プール
- ③ 金沢プール
- ④ ^{きん ぱく}金箔プール



答え

第12回ジュニアかなざわ検定解答(中学生版)

No.	解答	No.	解答
1	2	26	2
2	1	27	2
3	2	28	4
4	4	29	2
5	3	30	4
6	1	31	3
7	3	32	3
8	2	33	2
9	1	34	4
10	1	35	4
11	4	36	2
12	2	37	2
13	1	38	1
14	4	39	2
15	3	40	4
16	3	41	3
17	2	42	3
18	3	43	1
19	4	44	1
20	2	45	4
21	3	46	2
22	1	47	4
23	3	48	3
24	4	49	4
25	3	50	3